

Bu bölümde size verilen açıklamaları inceleyerek kavramları bulmaya çalışınız.

6. SINIF 3. ÜNİTE KAVRAMLARI

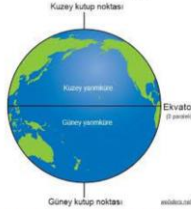
Yeryüzünün tamamının veya bir kısmının, kuşbakışı görünüşünün belirli bir oranda küçültülerek düzlem üzerine aktarılmasına denir.



[sosyalbilgilerinsest](#) [sosyalbilgilerinsest](#)

6. SINIF 3. ÜNİTE KAVRAMLARI

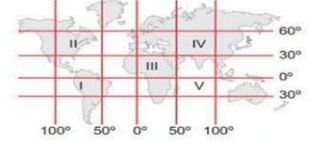
Dünyayı eşit olarak kuzey ve güney olmak üzere ikiye ayırdığına inanılan hayali çizgiye denir.



[sosyalbilgilerinsest](#) [sosyalbilgilerinsest](#)

6. SINIF 3. ÜNİTE KAVRAMLARI

Bir yerin Dünya üzerinde bulunduğu konuma denir.



[sosyalbilgilerinsest](#) [sosyalbilgilerinsest](#)

6. SINIF 3. ÜNİTE KAVRAMLARI

Sınırları belirli bir alanda dağ, ova, plato, akarsu gibi vb. yeryüzü şekillerini gösteren haritalara denir.



[sosyalbilgilerinsest](#) [sosyalbilgilerinsest](#)

6. SINIF 3. ÜNİTE KAVRAMLARI

Çevrelerine göre alçakta kalmış, eğimi az olan geniş düzlüklere denir.



[sosyalbilgilerinsest](#) [sosyalbilgilerinsest](#)

6. SINIF 3. ÜNİTE KAVRAMLARI

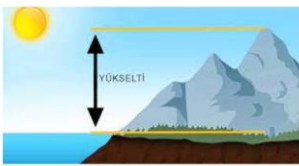
Dağlık yörelerde bir yamacın güneş ışınlarına, güneye veya kuzeye karşı konumuna denir.



[sosyalbilgilerinsest](#) [sosyalbilgilerinsest](#)

6. SINIF 3. ÜNİTE KAVRAMLARI

Bir noktanın deniz yüzeyinden olan yüksekliği, yükseklik, rakım, irtifa.



[sosyalbilgilerinsest](#) [sosyalbilgilerinsest](#)

6. SINIF 3. ÜNİTE KAVRAMLARI

Geniş bir bölge içinde ve uzun yıllar boyunca değişmeyen ortalama hava koşullarına denir.



[sosyalbilgilerinsest](#) [sosyalbilgilerinsest](#)

6. SINIF 3. ÜNİTE KAVRAMLARI

Sınırları belirli bir alan içerisinde yaşayan toplam insan sayısına denir.



[sosyalbilgilerinsest](#) [sosyalbilgilerinsest](#)

6. SINIF 3. ÜNİTE KAVRAMLARI

Su gücüyle elde edilen elektrik enerjisi.



[sosyalbilgilerinsest](#) [sosyalbilgilerinsest](#)

6. SINIF 3. ÜNİTE KAVRAMLARI

Kuzey kutbunda yaşayan toplulukların adı.



[sosyalbilgilerinsest](#) [sosyalbilgilerinsest](#)

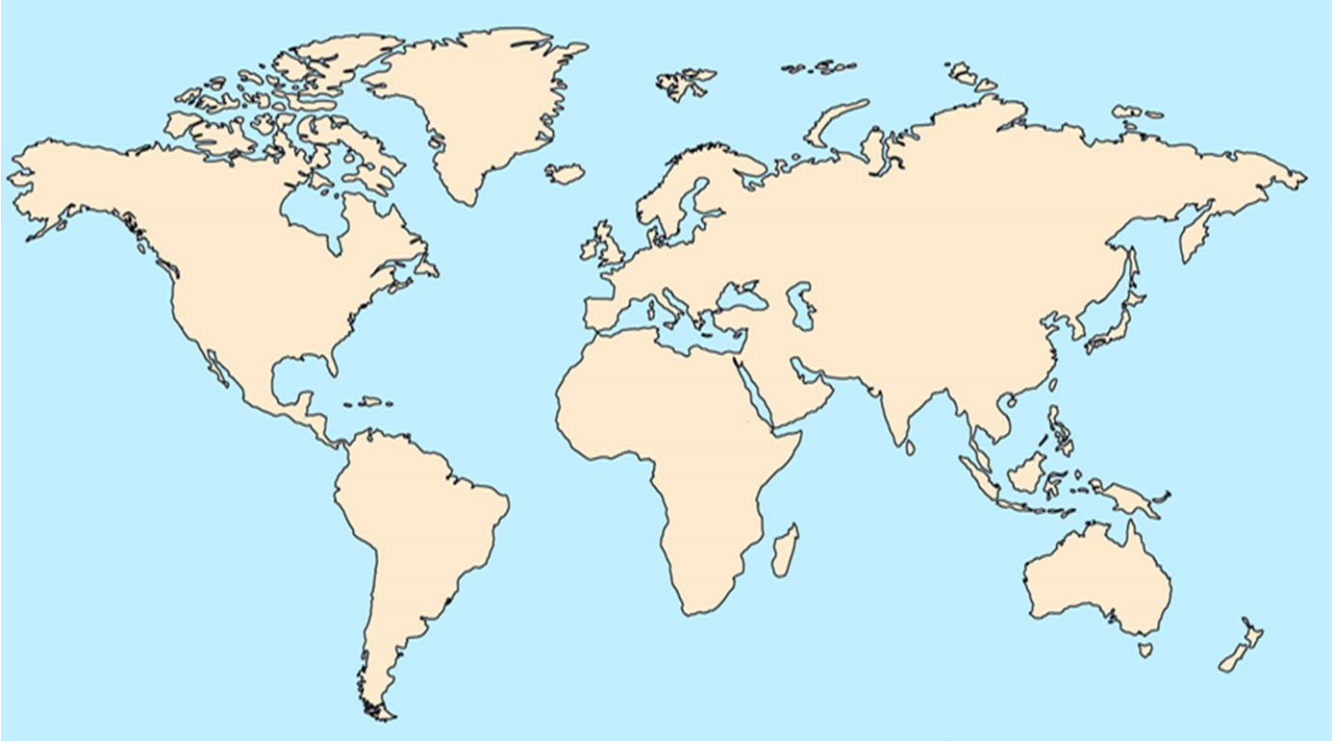
6. SINIF 3. ÜNİTE KAVRAMLARI

Eskimoların kardan yaptıkları ev.



[sosyalbilgilerinsest](#) [sosyalbilgilerinsest](#)

Aşağıda verilen haritaya kıta ve okyanusların buldukları yerlere isimlerini yazınız.



Aşağıda verilen bilgilerden doğru olanlara D yanlış olanlara Y koyunuz.

Türkiye 26-45 Kuzey Paralelleri ile 36-42 Doğu Meridyenleri arasındadır.



Paralel dairelerinin dereceleri Ekvator'dan kutuplara gidildikçe küçülür.



Hatay'da sıcaklığın Sinop'tan fazla olmasının sebebi ekvatora olan yakınlıktır.



Yılın belli aylarında nehirlerin taşıdığı ve sel felaketlerinin olduğu iklim Kutup iklimidir.



Yeryüzü şekilleri bir yerdeki ekonomik faaliyetleri etkiler.



Aşağıda verilen bilgilerdeki boşlukları doldurunuz.

Plato

Bor

Matematik

Özel

Kaktüs

Doğal

Renklendirme

Ülkemizin üç tarafı denizlerle çevrili bir yarımada olması konumu ile ilgilidir.

Çevresine göre yüksekte kalan, akarsular tarafından yarılmış geniş düzlüklere denir

Fizikî haritalarda yer şekillerini belirgin gösterebilmek ve daha iyi anlaşılmasını sağlamak için yükselti basamaklarına göre yapılır.

..... Dünya rezervinin %73'ü ülkemizdedir.

Nüfusun dağılışını yeryüzü şekilleri, iklim, bitki örtüsü, yeraltı kaynakları gibi faktörler etkilemektedir.

Çöl iklimi çok sıcak olduğu için bitki örtüsü gibi cılız otlardan oluşur.

Dünya üzerinde Kuzey ve Güney kutbuna yakın alanlarda Grönland Adası'nın içleri ve Antarktika'da görülür. Hava sıcaklığı sürekli 0°C'nin altındadır. Hava sıcaklıkları - 50 derecelere kadar inmektedir. Genellikle kar yağışı görülür. Yıl boyu dondurucu soğuklar hâkimdir.

A

EKVATORAL İKLİM

Dünyada 30 derece ile 40 derece enlemleri civarında görülmektedir. Yazlar sıcak ve kurak, kışlar ise ılık ve yağışlı geçer. Kışın sıcaklıklar nadiren 0 derecenin altına düşer. En fazla yağışı kışın alır. Bitki örtüsü kısa boylu bodur ağaçlardan oluşan makidir.

B

MUSON İKLİMİ

Amazon ve Kongo havzası, Gine Körfezi yakınlarında, Malezya ve Endonezya civarında görülmektedir. Sıcaklık ve yağış ortalaması fazladır. Her mevsim yağışlıdır. Sıcaklıklar yıl boyunca genellikle 20°C'nin üzerindedir. Yıllık ve günlük sıcaklık farkı azdır.

C

KUTUP İKLİMİ

Güneydoğu Asya'da Çin, Hindistan, Japonya, Pakistan, Tayvan ve Bangladeş gibi ülkelerde görülür. Yazlar çok yağışlı, kışlar ise kuraktır. Yaz aylarında aşırı yağış görülmektedir. Bu durum sellere neden olur. Yaz yağışları bol olduğu için yağışı seven pirinç ve çay gibi ürünler yetiştirilmektedir.

D

ÇÖL İKLİMİ

Yıl boyunca yağış miktarı yok denecek kadar azdır ve sıcaklık çok fazladır. Gece-gündüz sıcaklık farkları fazladır. Bitki örtüsü yok ya da yer yer kaktüstür. Vahaların (Sulak yerler) dışındaki yerler yaşam için elverişli değildir.

E

AKDENİZ İKLİMİ

Aşağıdakilerden hangisi Türkiye'nin bulunduğu bölgede önemini artırmaz?

- A) Asya ve Avrupa arasında köprü olması
- B) Zengin yer altı ve yer üstü kaynaklarının olması
- C) Yükseltinin batıdan doğuya doğru gidildikçe artması
- D) Akdeniz ve Karadeniz'i bağlayan boğazlara sahip olması

Ege bölgesinde deniz kıyısında yetişen bir tarım ürünü, bölgenin iç kesimlerinde de yetişebilmektedir. Karadeniz bölgesinde ise bu durumun tam tersi yaşanmaktadır.

Ege ve Karadeniz bölgelerindeki bu farklılığın sebebi aşağıdakilerden hangisidir?

- A) Yükselti farkı
- B) Kıyı uzunlukları
- C) Dağların uzanışı
- D) Deniz suyu sıcaklığı

Bir yerin coğrafi konumu matematik (mutlak) konum ve özel (göreceli) konum olmak üzere ikiye ayrılır. Matematik konum, o ülkenin paralel ve meridyenlere göre dünya üzerindeki yerini belirtir. Özel konum ise bir ülkenin kıtalara, denizlere, karayollarına, dünyanın önemli ülkelerine göre konumunu ifade eder.

Buna göre aşağıdakilerden hangisi Türkiye'nin matematik (mutlak) konumuyla açıklanamaz?

- A) Orta kuşakta olduğundan dört mevsim belirgin olarak yaşanmaktadır.
- B) Güneyden kuzeyine gidildikçe güneş ışınlarının geliş açısı küçülür.
- C) Kuzeyden esen rüzgârlar sıcaklığı düşürürken, güneyden esen rüzgârlar sıcaklığı yükseltir.
- D) Uluslararası enerji yollarının (boru hatlarının) geçiş noktasında önemli bir kavşak durumundadır

Aşağıdaki kaynak ve yararlanma şekli eşleştirmelerinden hangisi yanlıştır?

Kaynak **Yararlanma Şekli**

- A) Orman Kâğıt
- B) Demir Enerji Üretimi
- C) Akarsu Balıkçılık
- D) Toprak Seramik

Yaşadığımız yerde yılın her ayı yağışlı ve sıcaktır. Bitkiler gür ve uzun boylu olduğundan gökyüzü neredeyse görünmez hâldedir. Bu nedenle etrafımızdaki ormanlara "balta girmemiş ormanlar" denir. Yabani hayvanların saldırısından ve selden korunmak için evlerimizi kazıklar üzerine inşa ederiz.

Bunları söyleyen kişinin yaşadığı yerde hangi iklim tipi görülür?

- A) Muson
- B) Çöl
- C) Karasal
- D) Ekvatorial

Yazları sıcak ve kurak, kışları ılık ve yağışlıdır. Kar yağışı ve don olayı ender yaşanır. Bitki örtüsü makidir.



Yukarıda anlatılan iklim tipi harita üzerinde numaralandırılarak gösterilen yerlerin hangisinde görülür?

- A) I
- B) II
- C) III
- D) IV